

9 КЛАСС.

ЧАСТЬ 1

1.1. Выберите из приведенного списка ученого (А – Г), который сформулировал закон высотной поясности и горную систему на примере которой он охарактеризовал этот закон.

Учёные:

А) В.В. Докучаев; Б) П.П. Семенов-Тянь-Шанский; В) А. Гумбольдт; Г) М.В. Ломоносов.

Горные системы:

1) Альпы; 2) Гималаи; 3) Анды; 4) Уральские горы; 5) Кавказские горы.

1.2. Определите на каком континенте (А-Г) расположена точка с географическими координатами 51° ю.ш., 72° з.д. и выберите город (1-4), который является антиподом точки с этими координатами.

Континенты:

А) Южная Америка; Б) Австралия; В) Африка; Г) Антарктида.

Города-антиподы:

1) Улан-Удэ; 2) Эдмонтон; 3) Оттава; 4) Улан-Батор.

1.3. Установите последовательность перечисленных событий в истории географических открытий, начиная с самого раннего:

А) Покорение горы Джомолунгмы (Эверест) Э. Хиллари и Т. Норгеем;

Б) Открытие озера Эдуард и верховья реки Нил Г.М. Стэнли;

В) Завоевание Мексики под руководством Э. Кортеса;

Г) Открытие пролива между Азией и Америкой С.И. Дежневым.

1.4. Расположите перечисленные субъекты России по валовому региональному продукту (ВРП), начиная с наименьшего по данному показателю.

А) Санкт-Петербург;

Б) Республика Башкортостан;

В) Республика Ингушетия;

Г) Липецкая область.

1.5. Что объединяет перечисленные ниже географические объекты (варианты ответов А – Г) и у какого из них (1-6) географическое положение значительно отличается от других?

Объединяющий признак:

- А) Архипелаги;
- Б) Объекты Всемирного наследия ЮНЕСКО;
- В) Особо охраняемые природные территории;
- Г) Особая экономическая зона.

Географические объекты:

- 1) Охраняемая природная область Пантанал;
- 2) Национальный парк «Эверглейдс»;
- 3) Геоглифы пустыни Наска;
- 4) Липарские острова;
- 5) Мачу-Пикчу;
- 6) Национальный парк «Лос Гласиарес»

ЧАСТЬ 2

2.1. Выберите из списка названия трех наиболее характерных геоморфологических процессов, протекающих в современных условиях в Хибинах.

А) карст; Б) солифлюкция; В) оползень; Г) осыпи; Д) сход лавин; Е) вулканизм; Ж) экзарация; З) термокарст; И) абразия.

2.2. Выберите из приведенного списка названия местных ветров.

А) Куро시오; Б) Лабытнанги; В) Хамсин; Г) Мараньон; Д) Сирокко; Е) Рамень; Ж) Нунатак; З) Бора; И) Базардюзю; К) Кергелен; Л) Гальинас; М) Кальдера; Н) Фен; О) Гарига.



2.3. Какие из перечисленных субъектов имеют вторые официальные названия, зафиксированные в Конституции РФ?

А) Республика Башкортостан; Б) Чувашская республика; В) Республика Северная Осетия; Г) Республика Бурятия; Д) Чеченская республика; Е) Республика Адыгея; Ж) Кемеровская область.

2.4. Установите соответствия между путешественниками и городами, которые на момент жизни этого путешественника являлись столицей государства, чьи интересы он представлял.

Путешественники		Города	
1	М.П. Лазарев	А	Лиссабон
2	Ибн Баттута	Б	Санкт-Петербург
3	Р. Скотт	В	Эр-Рияд
4	Б. Диаш	Г	Вашингтон
		Д	Порту
		Е	Лондон
		Ж	Москва
		З	Фес

2.5. Установите соответствия между географическими объектами, изображёнными на фотографиях, и видами характерных для них видами топонимов.

Географические объекты		Виды топонимов	
1		А	дромоним
2		Б	оронимы

3		В	агоронимы
4		Г	спелеонимы
5		Д	потамонимы
		Е	инсулонимы
		Ж	дримонимы

2.6. Выберите эндемиков Евразии:

А) панда; Б) оцелот; В) барibal; Г) обыкновенная рысь; Д) ирбис; Е) карибу; Ж) шимпанзе; З) кабарга; И) пума; К) горная вискаша.

2.7. Выберите неверные характеристики для России:

- А) площадь страны более чем в два раза превосходит по площади самый маленький материк;
- Б) на территории страны протекает самая длинная река Европы;
- В) располагается в 12-ти часовых зонах;
- Г) имеет 17 сухопутных стран-соседей, к тому же граничит по морю с тремя государствами;
- Д) федеральных округов в государстве больше, чем экономических районов;
- Е) зона тундры распространена на 40% территории страны.

2.8. Установите соответствия между контурами стран и крупнейшими по длине реками на их территории.

Контур государства		Название реки	
1		А	Парана
2		Б	Нил
3		В	Конго
4		Г	Висла
5		Д	Дунай
		Е	Амазонка
		Ж	Тигр

	З	Иртыш
	И	Меконг

2.9. В приведённом списке 10 народов России, 7 из них относятся к одной и той же языковой семье. Определите три народа в этом списке, которые относятся к другим языковым семьям.

А) чеченцы; Б) ингуши; В) осетины; Г) черкесы; Д) лезгины; Е) карачаевцы; Ж) аварцы; З) калмыки; И) адыгейцы; К) кабардинцы.

2.10. Установите соответствия между экологическими проблемами и территориями или акваториями, для которых они наиболее характерны.

Экологические проблемы		Территории // Акватории	
1	Таяние ледников	а	остров Новая Зеландия
2	Кислотные осадки	б	Среднешведская низменность
3	Обезлесение	в	Бассейн р. Атабаска
4	Разрушение озонового слоя	г	Амазония
5	Нефтяное загрязнение	д	Алтай

ЧАСТЬ 3

3.1. Напишите название субъекта РФ, определив его по перечисленным объектам: остров Рудольфа, Приразломное месторождение, Котласский ЦБК, автомобильная трасса «Холмогоры».

3.2. Определите полуостров на территории России по его описанию.

Для геологического строения этого полуострова характерны следующие особенности: полуостров сложен докембрийскими породами, осадочный чехол имеет незначительную площадь, а местами отсутствует. В северо-восточной части полуострова развиты многолетнемерзлые породы. Территория богата минеральными ресурсами, на полуострове расположено крупнейшее в мире

месторождение апатитовых руд. На севере полуостров омывается теплым течением, благодаря которому здесь расположен крупный незамерзающий порт нашей страны.

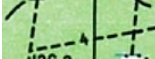


3.3. Определите отрасль хозяйства России, если известно, что к числу крупных центров этой отрасли относятся Омск, Тольятти и Ярославль, а представлена она такими компаниями, как «Новатэк», «Сибур» и «Ставролен».

3.4. Укажите какой вид демографического явления изображен на представленной картосхеме.



3.5. В горах Южной Сибири эти природные объекты носят название тебелеры, а в Якутии – булгунняхы. Как они называются в Северной Америке?

- 1) Определите масштаб карты, если известно, что длина стороны квадрата на километровой сетке составляет на карте составляет 2 см, а длина стороны квадрата на местности – 2 км. Ответ запишите в виде численного масштаба.
- 2) Для карты данного масштаба по прямой расстояние от деревни Острова до грунтовой дороги составляет около 2 см. Какой длины (в см) будет это расстояние на карте масштаба 1:25000?
- 3) Определите значение наиболее высокой точки в пределах фрагмента карты.
- 4) Определите из какого материала сооружены мосты через р. Волта?
- 5) Какой населенный пункт расположен вблизи проходимого участка болота? Напишите его название.
- 6) Определите название самого густонаселенного поселения в пределах карты.
- 7) Определите объекты, обозначенные перечисленными ниже условными знаками.

Условный знак	Обозначаемый объект	
	А	
	Б	
	В	

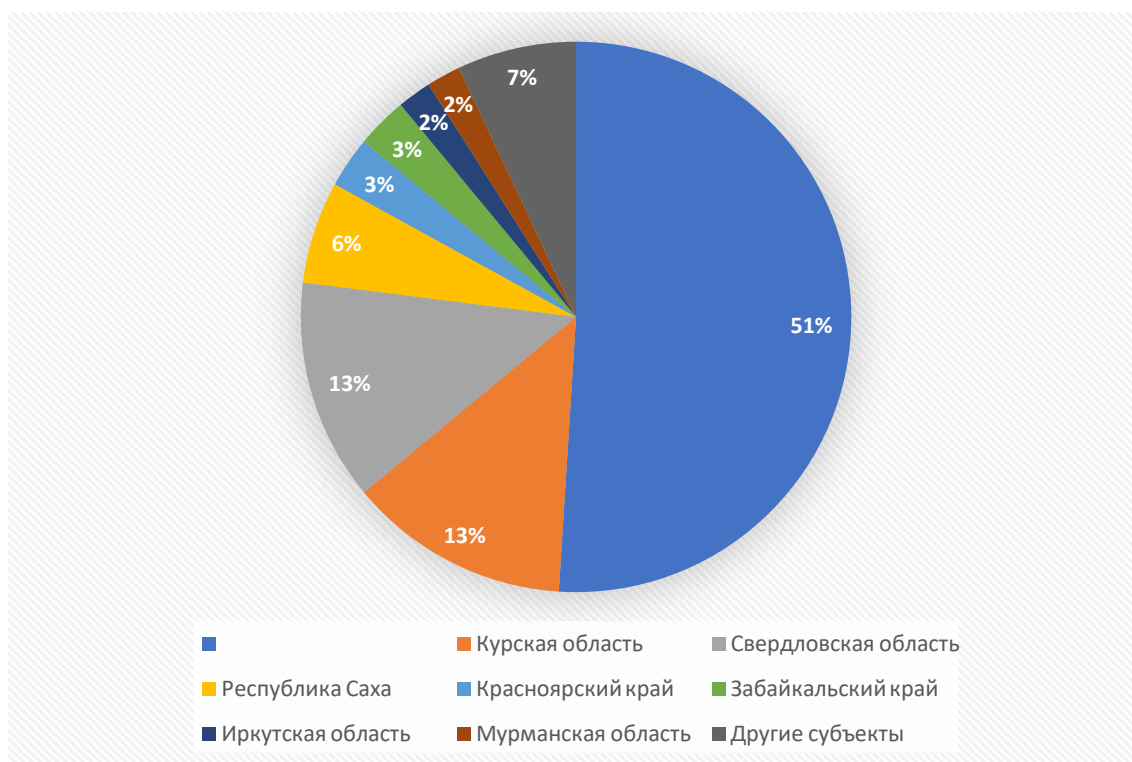
4.2. Пароход, отплывший из Сан-Франциско в понедельник 24 августа до 5 часов утра, прибыл в Пусан ровно через 18 суток.

- 1) Какого числа, в какой месяц и день недели он прибыл в Пусан?
- 2) Выберите верные утверждения о Сан-Франциско и Пусане.
 - А) Оба города расположены в субтропическом климатическом поясе, но в разных его областях.
 - Б) Сан-Франциско расположен в зоне жестколистных вечнозеленых лесов и кустарников.
 - В) Пусан – первый по численности город КНДР.
 - Г) Пусан – один из крупнейших портов Индийского океана.

Д) В Сан-Франциско расположены такие знаменитые достопримечательности как Золотой мост и Чайна-Таун.

3) Представьте, что у Вас есть возможность совершить путешествие на таком пароходе. Визы каких государств Вам понадобятся, для осуществления посадки в городе отправления и высадки в городе прибытия?

4.3. Рассмотрите круговую диаграмму, где показана доля запасов рудного полезного ископаемого по субъектам России и выполните задания.



- 1) Назовите полезное ископаемое.
- 2) Назовите страну, являющуюся лидером по запасам данного полезного ископаемого.
- 3) Назовите не подписанный на диаграмме субъект России, являющийся в нашей стране лидером по запасам данного полезного ископаемого.
- 4) Назовите крупнейшее в России месторождение данного полезного ископаемого.
- 5) Рассчитайте ресурсообеспеченность этим полезным ископаемым стран А, Б, В. Ответ запишите в порядке возрастания ресурсообеспеченности.

Страна	Разведанные запасы полезного ископаемого, млн. т.	Добыча полезного ископаемого, млн. т. в год
А	72300	248
Б	75000	298
В	97800	310

6) Напишите названия трех минералов, которые содержат в себе руды этого полезного ископаемого.

7) Какие два основных продукта изготавливаются из этого полезного ископаемого?

4.4. Внимательно прочитайте текст о государстве, которое находится в составе СНГ. Ответьте на вопросы.

Это внутриконтинентальное государство, граничащее с пятью странами. Это государство одно из двух стран в мире, которое отделено территориями 2-х стран от прямого выхода к мировому океану. Самый западный регион страны является районом экологического бедствия в связи со снижением уровня и существенным сокращением площади крупного бессточного озера. Это происходит по причине забора воды для нужд сельского хозяйства из двух крупных рек, которые впадают в это озеро и протекают по территории данного государства. Страна имеет богатую ресурсную базу. Активно разрабатываются месторождения полиметаллов и углеводородов. По запасам и добыче одного из полезных ископаемых страна находится на 19-м и 11-м местах в мировом рейтинге. Столица государства, а также два города, являющиеся крупными туристскими центрами, имеют возраст свыше 2000 лет. Сельское хозяйство является важной статьей дохода государства: 20% ВВП страны. Сейчас, несмотря на некоторое уменьшение производства, страна находится на 5-м месте в мире по объемам выращивания сельскохозяйственной культуры, которая раньше была одним из символов рассматриваемого государства. Помимо титульного народа в населении страны 2,5 %, а в столице страны 20 %, составляет этнос, который был наибольшим по численности в государстве в состав которого входила рассматриваемая страна до 1991 года.

Определите: 1) Название страны; 2) Название второго государства в мире, которое отделено от мирового океана территориями 2-х государств 3) Название озера; 4) Название рек (напишите через запятую в алфавитном порядке); 5) Назовите полезное ископаемое; 6) Назовите эти два города (напишите через запятую в алфавитном порядке); 7) Назовите техническую сельскохозяйственную культуру; 8) Назовите национальность.

4.5. Замените пропуски в тексте (числа в скобках) словами или словосочетаниями, которые могут быть именами собственными или понятиями.

(1) – единственный субъект России, полностью расположенный на островах. Считается, что впервые русские увидели эту территорию во время экспедиции 1640 года, которой руководил (2), – первый из европейцев, открывший (3) море. Освоение территории началось уже в XIX веке, а свои современные границы (1) получила только в 1945 году, после победы СССР во Второй мировой войне. Несмотря на это, южные острова до сих пор оспаривает (4), с которой Россия имеет морскую границу. Главная особенность природных условий территории – это активный современный (5) на архипелаге, обусловленный тем, что здесь происходит (6) – явление, когда одна (7) погружается под другую. (5), а также (8) климат умеренного пояса создают уникальные для России ландшафты с особой флорой и фауной. (1) обладает не только богатейшими биологическими ресурсами моря, но и значительными запасами полезных ископаемых – в первую очередь, это (9) и другие топливные ресурсы. Важнейшим промышленным и научным центром региона является город (10).

ОТВЕТЫ И КРИТЕРИИ ОЦЕНИВАНИЯ

№	ОТВЕТЫ	БАЛЛЫ
1.1	ВЗ	1
1.2	А1	1
1.3	ВГБА	1
1.4	ВГБА	1
1.5	Б4	1
2.1	БГД	3 – полностью верный ответ; 2 – 1 ошибка; 1 – 2 ошибки
2.2	ВДЗН	3 – полностью верный ответ; 2 – 1 ошибка; 1 – 2 ошибки

2.3	БВЖ	3 – полностью верный ответ; 2 – 1 ошибка; 1 – 2 ошибки
2.4	1Б, 2З, 3Е, 4А	3 – полностью верный ответ; 2 – 1 ошибка; 1 – 2 ошибки
2.5	1Г, 2А, 3Ж, 4В, 5Д	3 – полностью верный ответ; 2 – 1 ошибка; 1 – 2 ошибки
2.6	АГДЗ	3 – полностью верный ответ; 2 – 1 ошибка; 1 – 2 ошибки
2.7	ВГДЕ	3 – полностью верный ответ; 2 – 1 ошибка; 1 – 2 ошибки
2.8	1З, 2В, 3Е, 4Г, 5И	3 – полностью верный ответ; 2 – 1 ошибка; 1 – 2 ошибки
2.9	ВЕЗ	3 – полностью верный ответ; 2 – 1 ошибка; 1 – 2 ошибки
2.10	1Д, 2Б, 3Г, 4А, 5В	3 – полностью верный ответ; 2 – 1 ошибка; 1 – 2 ошибки
3.1	Архангельская область	3
3.2	Кольский полуостров // Кольский	3
3.3	Химическая промышленность // химическая // химпром / нефтехимия / нефтехимическая	3
3.4	Внешняя миграция / миграция / иммиграция / эмиграция	3 балла за ответ внешняя миграция; за ответы миграция, иммиграция, эмиграция – 1 балл
3.5	пинго	3
4.1	1) 1:100 000	2
	2) 4 см	1
	3) 141,8	1
	4) Дерево // деревянные // из дерева	1
	5) Мнюхи	1
	6) Большая Ковалевщина // Бол. Ковалевщина	1
	7) А – просека; Б – канал // канава; В – редколесье по непроходимому болоту // редкий низкорослый лес по непроходимому болоту	3 (по 1 за каждый ответ)
4.2	1) 12 сентября, суббота.	3 - дата 2 - суббота
	2) АБД	3 (по 1 за каждый ответ)
	3) США, Республика Корея // Южная Корея	2 (по 1 за каждый ответ)
4.3	1) железная руда // железо	2
	2) Австралия // Австралийский Союз	1
	3) Белгородская область	1
	4) Курская магнитная аномалия // КМА // Лебединское	1
	5) БАВ	1
	6) красный железняк (гематит), магнитный железняк (магнетит), бурый железняк (лимонит), сидерит, марказит, гетит, гидрогетит и др.	3 (по 1 за каждый ответ)
	7) Сталь, чугун	1
4.4	1) Узбекистан	1
	2) Лихтенштейн	1
	3) Аральское море // Арал	1
	4) Амударья, Сырдарья	2 (по 1 за каждый ответ)

	5) Природный газ // газ	1
	6) Бухара, Самарканд	2 (по 1 за каждый ответ)
	7) Хлопчатник	1
	8) русские	1
4.5	1 – Сахалинская область	1
	2 – Иван Юрьевич Москвитин // Иван Москвитин // И.Ю. Москвитин // И. Москвитин // Москвитин	1
	3 – Охотское	1
	4 – Япония	1
	5 – вулканизм	1
	6 – субдукция	1
	7 – литосферная плита	1
	8 – муссонный // морской	1
	9 – природный газ // газ // нефть	1
	10 – Южно-Сахалинск	1

Максимальный балл = 100 баллов